

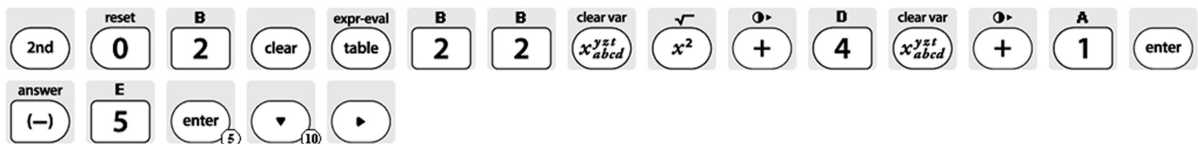
Hilfekarte zur Bedienung des TI-30X Plus

Aufgabe: Bestimme den Funktionswert $f(5)$ der Funktion f mit

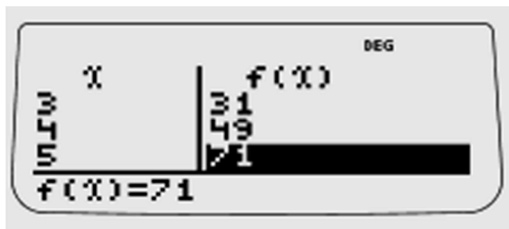
$$f(x) = 2x^2 + 4x + 1$$

- aus einer Wertetabelle mit $x_{Min} = -5$, $x_{Max} = 5$, $Schrittweite = 1$
- direkt aus der Notation $f(5)$.

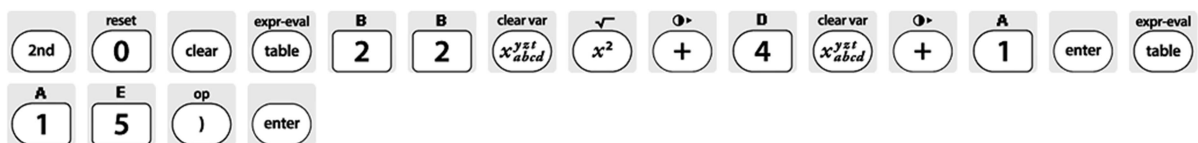
Tastenfolge zu a)



Bildschirmanzeige zu a)



Tastenfolge zu b)



Bildschirmanzeige zu b)

